

Банк заданий для устранения предметных дефицитов, выявленных по результатам РДР-2020 по обществознанию в 10 классе

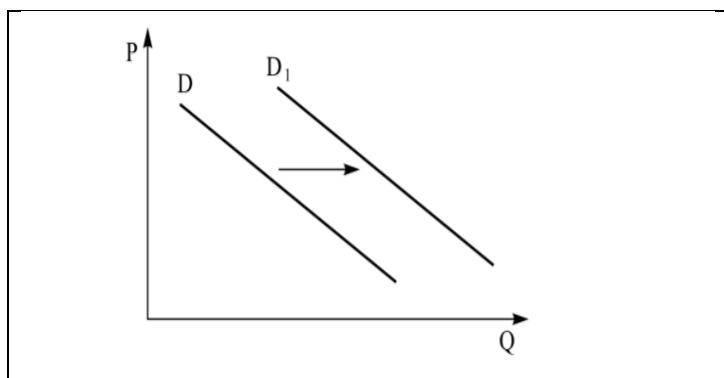
Дефицит: осуществлять поиск социальной информации по заданной теме из диаграммы/таблицы; оценивать поведение людей с точки зрения социальных норм, экономической рациональности.

Раздел курса: «Экономика»

Основные проверяемые требования к обществоведческой подготовке:

уметь осуществлять поиск социальной информации по заданной теме из диаграммы/таблицы; оценивать поведение людей с точки зрения социальных норм, экономической рациональности.

1. На рисунке отражена ситуация на рынке ветеринарных услуг: линия спроса D переместилась в положение D_1 (P — цена товара, Q — объём спроса на товар).

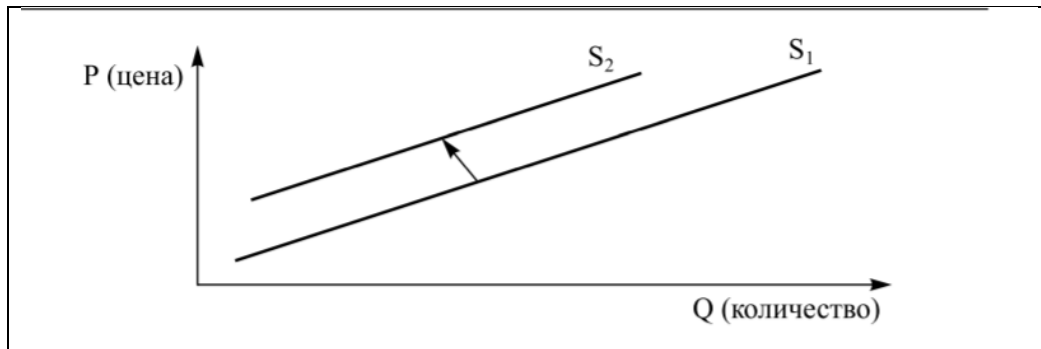


Какие из перечисленных фактов могут вызвать такое изменение? Запишите цифры, под которыми они указаны.

- 1) ожидание экономического подъёма
- 2) принятие нового закона «Об охране окружающей среды»
- 3) увеличение доходов потребителей
- 4) популярность домашних животных у населения
- 5) рост числа ветеринарных клиник

Ответ: _____

2. На рисунке отражено изменение объёмов предложения: линия предложения переместилась из положения S_1 в положение S_2 .



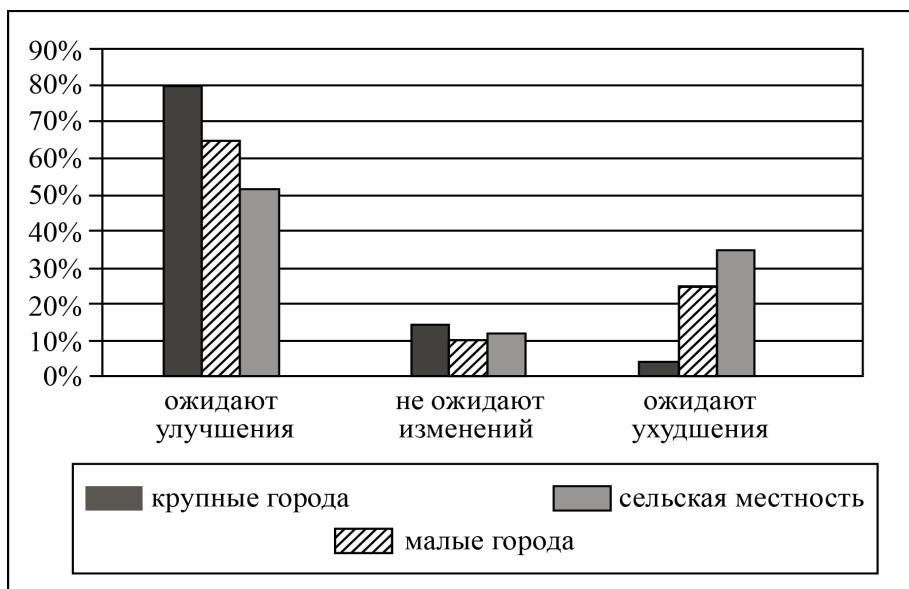
Выберите ситуации, которые могут быть выражены следующим графиком. Запишите цифры, под которыми они указаны.

- 1) изменение объёмов производства в связи с ростом тарифов на электроэнергию
- 2) рынок шоколада после хорошего урожая какао-бобов
- 3) снижение налога на прибыль производителя товара
- 4) открытие новых фирм в отрасли, производящей данный товар
- 5) банкротство туристических фирм в связи со спадом в экономике страны

Ответ: _____

3. В стране Z начался экономический подъём. В ходе социологического опроса совершеннолетних граждан страны Z им задавали вопрос: «Ожидаете ли Вы улучшения своего материального положения в течение ближайших пяти лет?»

Результаты опроса (в % от числа отвечавших) представлены в виде диаграммы.




Сформулируйте по одному выводу:

- а) о сходстве;
- б) о различии в позициях групп опрошенных.

Выскажите предположение о том, чем объясняются указанные Вами сходство и различие.

4. Социологической службой проведён опрос студентов-старшекурсников экономических факультетов 50 крупнейших вузов страны с целью выяснения их планов на будущее. Был задан вопрос: «Каким видом трудовой профессиональной деятельности вы планируете заниматься после окончания вуза?» Результаты опроса (в % от числа респондентов) представлены в виде диаграммы.



Найдите в приведённом ниже списке выводы, которые можно сделать на основе диаграммы, и запишите цифры, под которыми они указаны.

- 1) Более половины опрошенных студентов-старшекурсников не определились в своих планах на будущее.
- 2) Число студентов, мечтающих о собственном деле, превышает стремящихся работать по найму.
- 3) Почти каждый третий респондент связывает своё будущее с карьерой государственного или муниципального служащего.
- 4) Четвёртая часть опрошенных студентов пока не представляют, как сложится их профессиональная жизнь.
- 5) Каждый четвёртый выпускник вуза связывает свою профессиональную деятельность с предпринимательством.

Ответ: _____

5. В Санкт-Петербурге прошёл очередной Петербургский международный экономический форум. Его участниками стали представители мировой политической и деловой элиты, а также ведущие экономические аналитики планеты. Но способны ли подобные мероприятия улучшить инвестиционную привлекательность России в глазах иностранцев? С этим вопросом Исследовательский центр рекрутингового портала Superjob.ru обратился к экономически активным россиянам из разных регионов страны. Результаты исследования оформлены в виде таблицы.

Считаете ли вы, что масштабные экономические форумы могут улучшить инвестиционную привлекательность в глазах иностранцев?

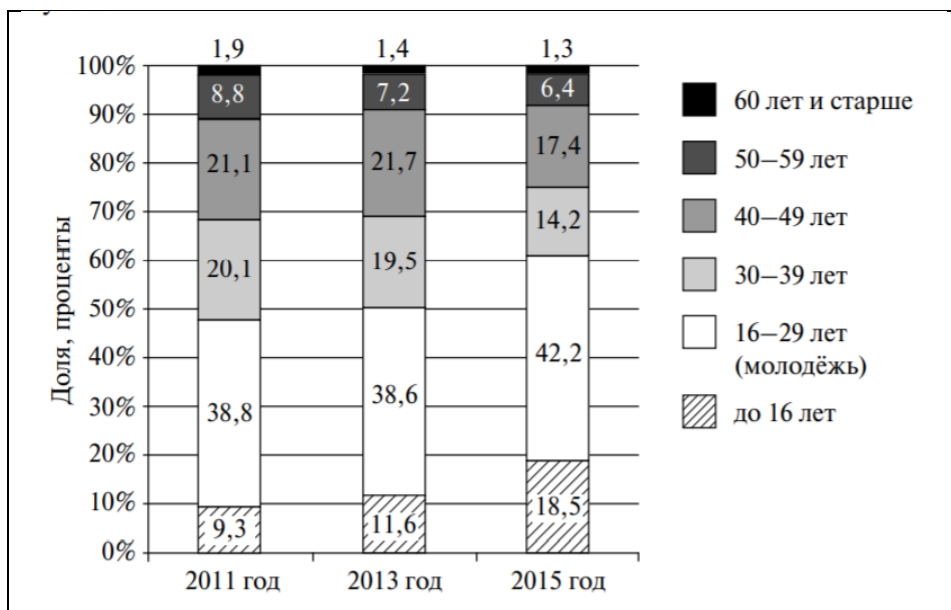
Варианты ответа	Все, %	Пол		Возраст		
		муж., %	жен., %	до 24 лет, %	25–44 года, %	старше 45 лет, %
Да	32	30	35	38	33	22
Нет	38	45	26	25	37	51
Затрудняюсь	30	25	39	37	30	27

Найдите в приведённом ниже списке выводы, которые можно сделать на основе таблицы, и запишите цифры, под которыми они указаны.

- 1) Более трети опрошенных уверены, что проведение Петербургского международного экономического форума никак не повлияет на инвестиционную привлекательность государства.
- 2) Оптимизм участников исследования в отношении экономических форумов растёт с возрастом.
- 3) Меньше всего при определении значения форумов для экономики России с ответом затрудняются женщины.
- 4) Участники опроса единодушно высказались в пользу экономического форума для отечественного инвестиционного климата.
- 5) Чем младше участники опроса, тем более оптимистично они настроены.

Ответ: _____

6. Какие выводы можно сделать на основе предложенной гистограммы «Процентно-возрастное соотношение численности безработных в 2011–2015 гг. в стране N»? Запишите цифры, под которыми они указаны.



- 1) Выросла доля безработных в возрасте 30–39 лет.
- 2) Наименьший процент безработных в эти годы составляли граждане в возрасте 40–49 лет.
- 3) Самый большой процент безработных составляли граждане в возрасте от 40 до 49 лет.
- 4) Общая доля безработных в возрасте до 29 лет увеличилась до 60%.
- 5) В 2015 г. сократилась доля безработных в возрасте от 30 до 39 лет.

Ответ: _____

7. В таблице отражены изменения в структуре доходов населения страны Z с 2000 по 2012 гг. Сделайте два вывода на основе данных таблицы. О какой наметившейся в этот период экономической тенденции свидетельствуют приведённые данные? Приведите три аргумента в обоснование своего предположения.

Доходы населения	2000 г.	2012 г.
Заработная плата	72%	50%
Социальные выплаты	8%	12%
Доходы от собственности	20%	38%

8. Ознакомьтесь с источниками, ответьте на вопросы и выполните задания

Текст

В широком смысле неполная занятость — это такое положение, при котором выполняемая работа не требует полного использования квалификации и профессиональной подготовки индивида, не соответствует его ожиданиям и не позволяет получать такую зарплату, какую он мог бы иметь, выполняя ту работу (и в том объеме), на которую мог бы претендовать...

Циклическая безработица связана с колебанием спроса на рабочую силу. Спад — это циклическое снижение деловой активности, в результате которого люди теряют рабочие места на тот период, пока вновь не возрастет спрос и не произойдет оживление деловой активности. Сезонная безработица возникает из-за сезонных

колебаний спроса на рабочую силу. Она затрагивает тех, кто занят в рыболовстве, строительстве и сельском хозяйстве. Тех, кто меняет работу, и тех, кто не занят в данный момент в связи с переходом с одного места на другое, называют функциональными (фрикционными) безработными. Функциональная (фрикционная) безработица считается хотя и неизбежным, но все же приемлемым следствием здоровой экономики. Можно предположить, что даже при полной занятости работающие по найму будут переходить с места на место.

Структурные безработные испытывают трудности в получении работы из-за недостаточно высокой или ставшей недостаточной квалификации, дискриминации по признакам пола, этнической принадлежности, возраста или инвалидности. Даже в периоды высокого уровня занятости среди структурных безработных сохраняется непропорционально высокая безработица.

Безработица — не просто отсутствие работы... Хотя безработица может оказаться созидательным, мобилизующим волю испытанием, большинство прошедших через это говорят, что пережили отчаяние, бессилие и растерянность, особенно если были без работы дольше, чем несколько

недель. Для большинства людей работа по найму является основным, а часто и единственным средством обеспечения материальных потребностей в еде, одежде, крыше над головой. Исследования показывают: те, кто не любит свою работу, все-таки предпочитают сохранить ее даже тогда, когда предоставляется возможность жить на иные доходы. Хотя условия труда могут вызывать неблагоприятные последствия, отсутствие работы приводит к не меньшим нарушениям: усиление стресса, семейные конфликты, пристрастие к алкоголю и наркотикам.

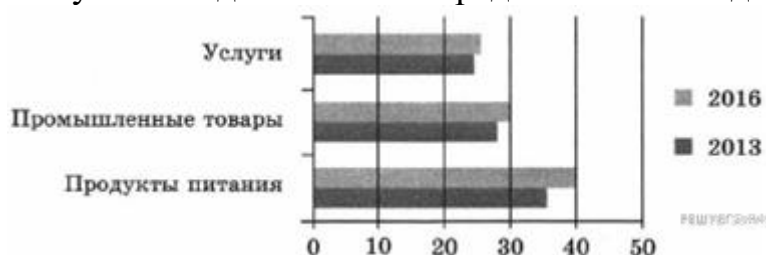
9. Как в тексте обозначено влияние спада на циклическую безработицу? Какие отрасли экономики, по мнению автора, затрагивает сезонная безработица? (Укажите все отрасли, упомянутые в тексте.) Как автор объясняет неизбежность функциональной (фрикционной) безработицы?

10. Какой смысл автор вкладывает в понятие «неполная занятость»? Опираясь на обществоведческие знания, предположите, почему некоторые работники соглашались на состояние неполной занятости (выскажите два предположения).

11. Автор отмечает, что «даже в периоды высокого уровня занятости среди структурных безработных сохраняется непропорционально высокая безработица». Используя обществоведческие знания, объясните причину такого уровня безработицы среди данных категорий граждан. Назовите любые две меры для предотвращения дискриминации указанных автором категорий граждан, предусмотренные законодательством РФ.

12. Почему, по мнению автора, безработица вызывает состояние отчаяния, растерянности человека? Используя обществоведческие знания и факты общественной жизни, выскажите два предположения о том, в чём проявляется мобилизирующее воздействие безработного состояния на человека.

13. Был проведен опрос о расходах граждан в 2013 и 2016 гг. Был задан вопрос: «На что уходит большая часть вашей заработной платы?» Полученные данные были представлены в виде гистограммы.



Какая статья расходов за прошедшее время изменилась меньше других? Выскажите два предположения, почему именно эти расходы выросли меньше, чем остальные.

14. В ходе социологического опроса совершеннолетним жителям города Z задавали вопрос: «Что из перечисленного наиболее важно, чтобы магазин, в котором Вы покупаете продукты, полностью Вас устраивал?» Результаты опроса (в % от числа отвечавших) представлены в графическом виде.



1. Как ответила наибольшая доля опрошенных? Предположите почему.

2. Много или мало потребителей считают важным условием удобное время работы магазина? Выскажите свою позицию по этому вопросу. Объясните свой ответ.

3. Какой ответ на вопрос дали бы Вы, если бы участвовали в опросе?
