

Анализ предметных дефицитов по теме: Задание № 3 ВПР

Дьячкова Татьяна Валерьяновна, доцент
ГОУ ВО МО ГГТУ

Континентальный шельф



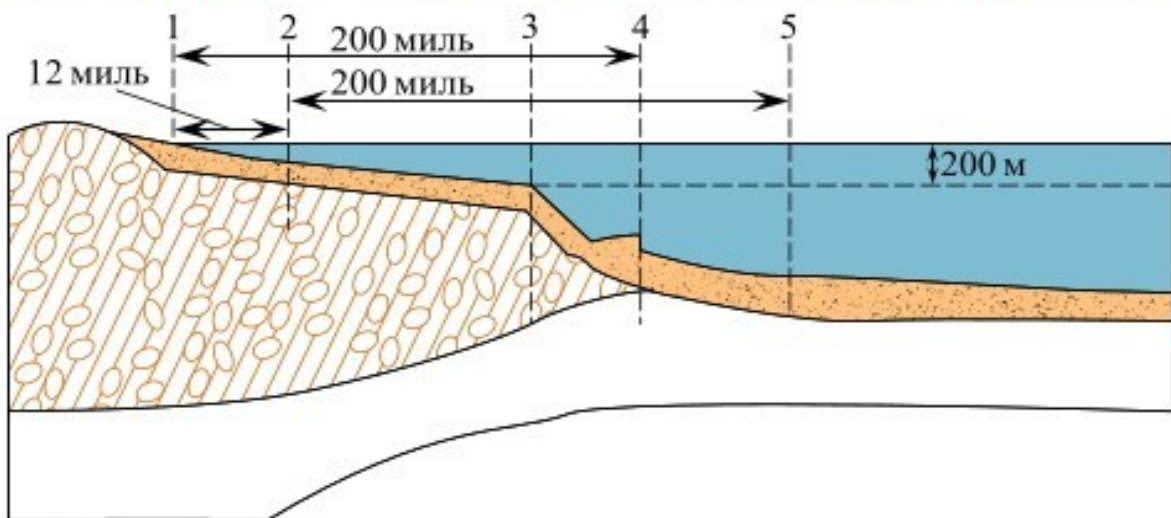
центр непрерывного повышения профессионального
мастерства педагогических работников

Территориальные воды

Исключительная экономическая зона

Тип 3 № 3474

Россия имеет суверенные права на разведку и разработку природных ресурсов в пределах своего континентального шельфа. Установите соответствие **между границами континентального шельфа** России и цифрами, которыми они обозначены на рисунке: к каждому элементу первого столбца подберите соответствующий элемент из второго столбца.



ГРАНИЦЫ КОНТИНЕНТАЛЬНОГО ШЕЛЬФА РОССИИ

ОБОЗНАЧЕНИЯ НА РИСУНКЕ

- 1) 1
- 2) 2
- 3) 3
- 4) 4
- 5) 5

Запишите в таблицу выбранные цифры под соответствующими буквами.

На схеме обозначены морские границы нашей страны, её основные части.

Континентальный шельф Территориальные воды



центр непрерывного повышения профессионального
мастерства педагогических работников

Исключительная экономическая зона

Характеристика задания и оценивание

Конкретизированный предметный результат: использовать знания о государственной территории и исключительной экономической зоне, континентальном шельфе России для решения практико-ориентированных задач.

Возможности использования на уроке: при устном опросе или письменном тестовом опросе по карточкам.

Вид задания (по характеру действий): подведение под понятие: анализ графического изображения для определения существенных признаков понятия «континентальный шельф России».

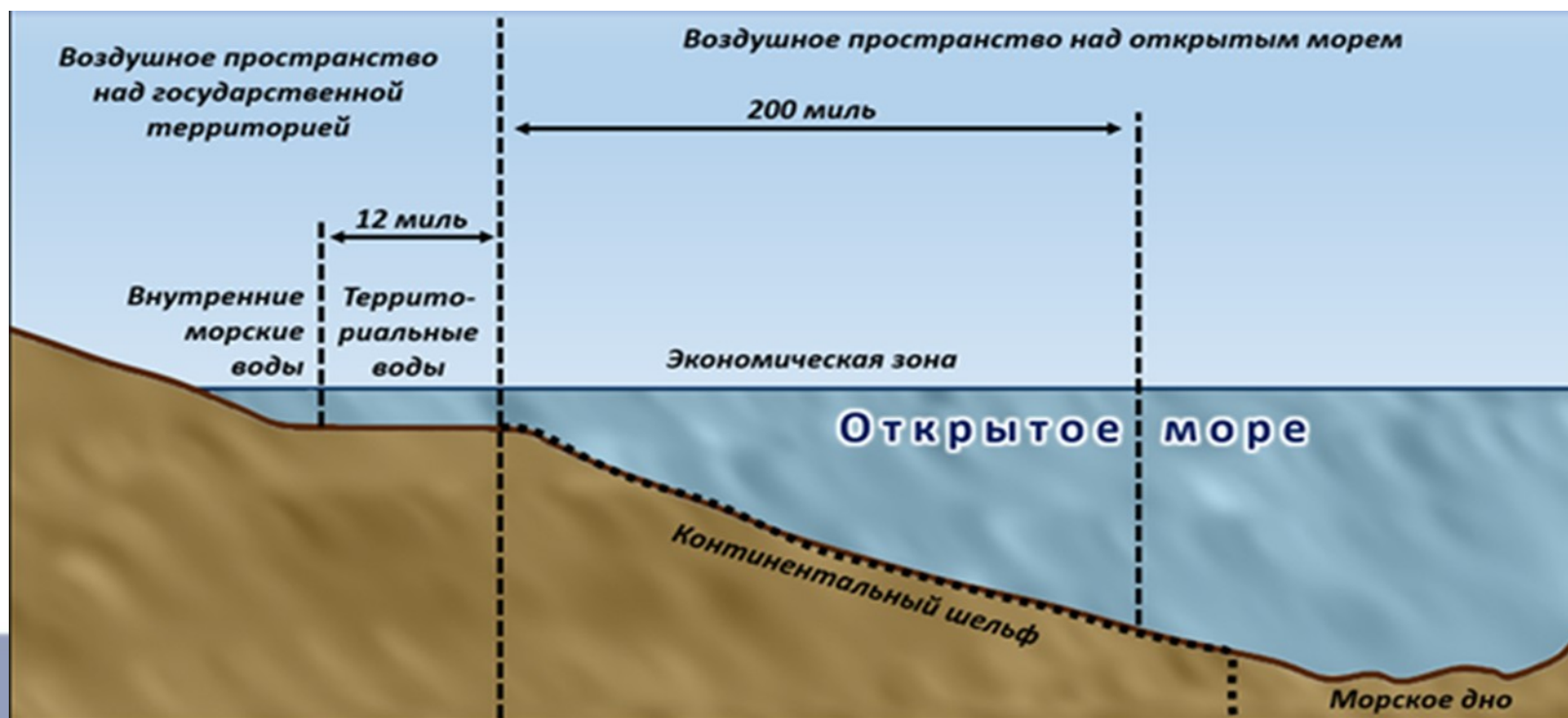
Континентальный шельф

Континентальный шельф — это подводная часть материка, которая находится под морем. По **правилам международного права**, это морское дно и недра под ним, которые простираются от берега дальше территориальных вод на определенное расстояние (до **200** или даже **350** морских миль).



Территориальные воды

Территориальные воды — это **полоса моря шириной до 12 морских миль**, которая прилегает к берегу страны. Эти воды считаются частью государственной территории, и государство имеет там полный суверенитет — то есть законы и правила этой страны действуют там так же, как и на суше. В этой зоне охраняется порядок, запрещен проход иностранным судам без разрешения и проводятся другие государственные меры.



Территориальные воды



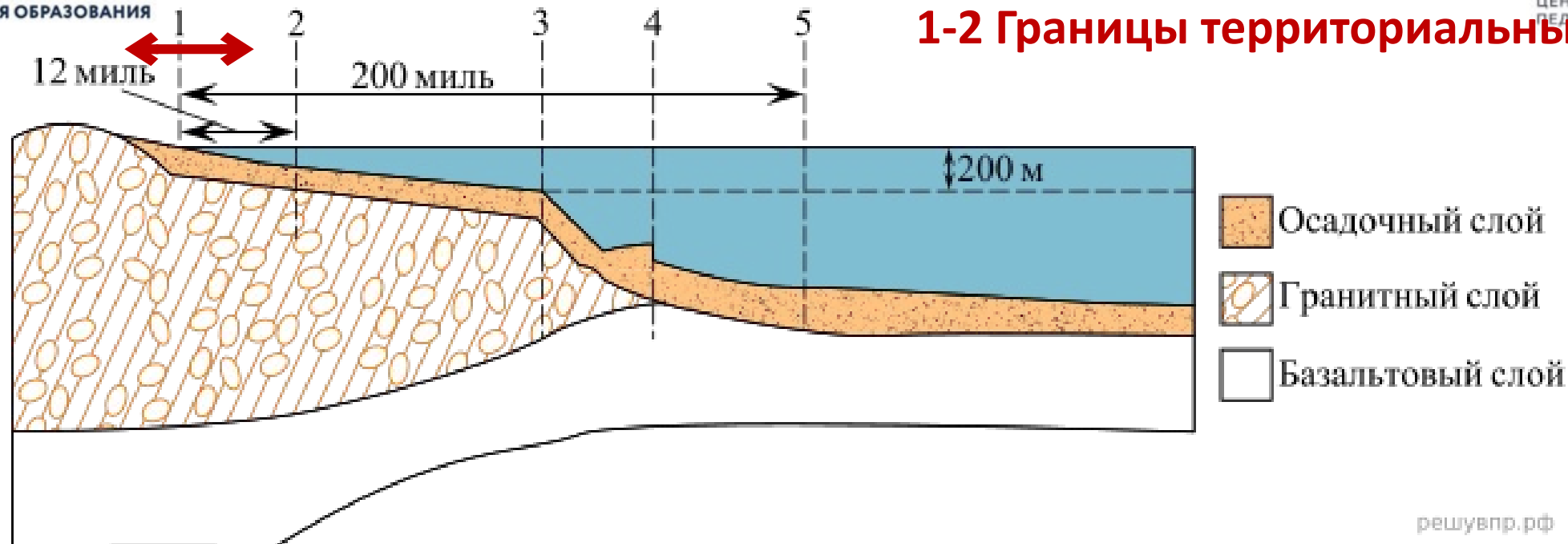
центр непрерывного повышения профессионального
мастерства педагогических работников

Территориальные воды

Территориальные воды — это **полоса моря шириной до 12 морских миль**, которая прилегает к берегу страны. Эти воды считаются частью государственной территории, и государство имеет там полный суверенитет — то есть законы и правила этой страны действуют там так же, как и на суше. В этой зоне охраняется порядок, запрещен проход иностранным судам без разрешения и проводятся другие государственные меры.

Федеральный закон от 31 июля 1998 г. N 155-ФЗ "О внутренних морских водах, территориальном море и прилежащей зоне Российской Федерации" (с изменениями и дополнениями)

Статья 2. Территориальное море Российской Федерации (далее - территориальное море) - примыкающий к сухопутной территории или к внутренним морским водам морской пояс шириной 12 морских миль, отмеряемых от исходных линий, указанных в [статье 4](#) настоящего Федерального закона.



1 – внутренняя граница

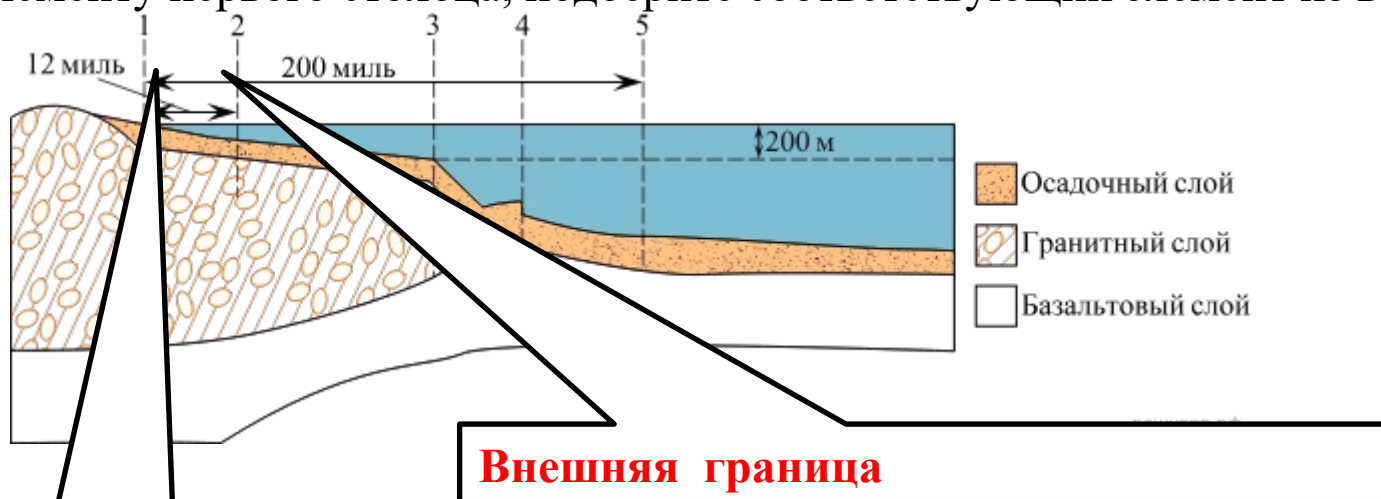
2 – внешняя граница

Территориальные воды России простираются на 12 морских миль (22,2 км) от береговой линии. В этой зоне Россия обладает суверенитетом, включая контроль над природными ресурсами.

Тип Б

Используя знания о государственной территории России, определите границы территориальных вод России.

Установите соответствие между **границами территориальных вод** и цифрами, обозначенными на рисунке: каждому элементу первого столбца, подберите соответствующий элемент из второго.



Внутренней границей

— это исходные линии, от которых отмеряется его ширина (обычно она составляет 12 морских миль).

Внешняя граница

ГРАНИЦЫ ТЕРРИТОРИАЛЬНЫХ ВОД

А) внутренняя

Б) внешняя

ОБОЗНАЧЕНИЯ НА РИСУНКЕ

1) 1

2) 2

3) 3

4) 4

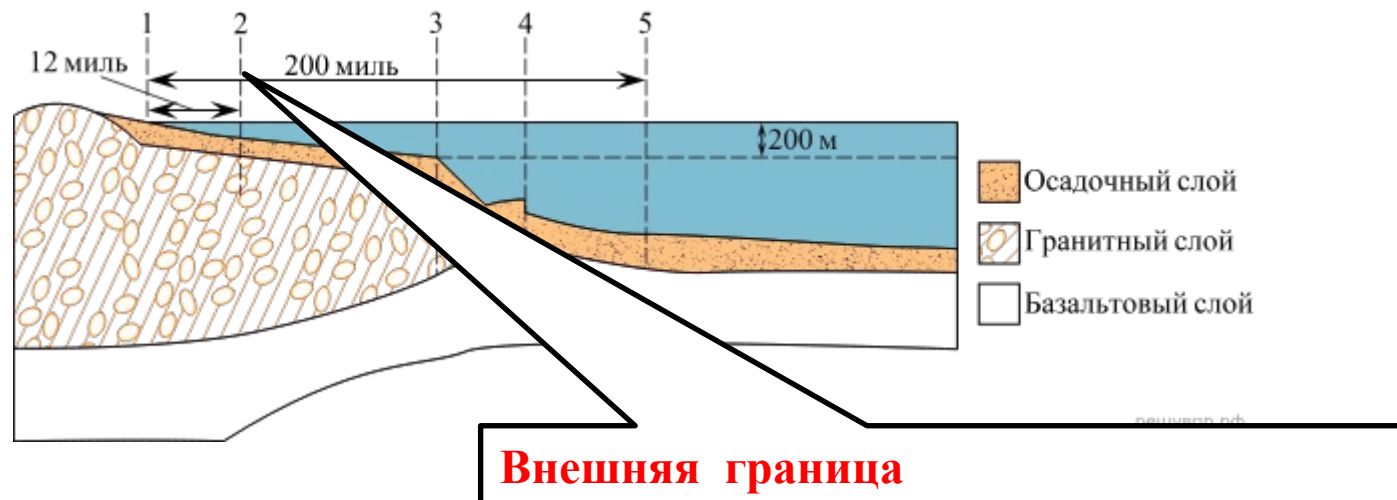
5) 5

Запишите в таблицу выбранные цифры под соответствующими буквами.

А	Б
1	2

Тип 3 № 3520

Используя знания о государственной территории России, определите начало международных вод на схеме. Ответ запишите цифрой.



Международные воды начинаются в точке, где заканчивается территориальное море страны, обычно в 12 морских милях от исходной линии прибрежного государства.

Ответ: 2.

ФЗ от 30.11.1995 N 187-ФЗ (ред. от 19.10.2023) «О континентальном шельфе РФ»

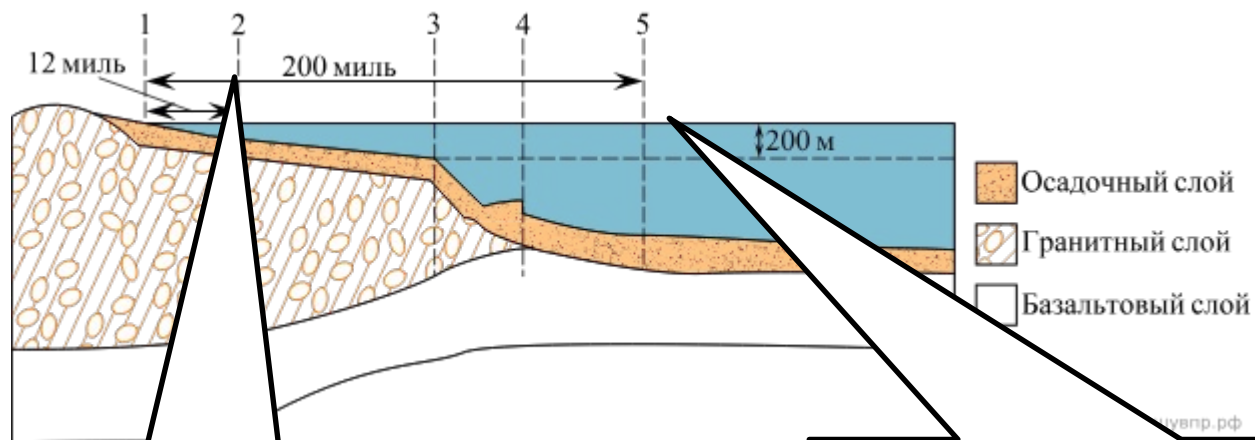
Внутренней границей континентального шельфа является **внешняя граница территориального моря.**

С учетом положений **статьи 2** настоящего Федерального **закона** **внешняя граница континентального шельфа находится на расстоянии 200 морских миль от исходных линий**, от которых отмеряется ширина территориального моря, при условии, что внешняя граница подводной окраины материка не простирается на расстояние более чем 200 морских миль.

Если подводная окраина материка простирается на расстояние более 200 морских миль от указанных исходных линий, **внешняя граница континентального шельфа совпадает с внешней границей подводной окраины материка**, определяемой в соответствии с нормами международного права.

Тип А

Россия имеет суверенные права на разведку и разработку природных ресурсов в пределах своего континентального шельфа. Установите соответствие **между границами континентального шельфа** России и цифрами, которыми они обозначены на рисунке: к каждому элементу первого столбца подберите соответствующий элемент из второго столбца.



ГРАНИЦЫ КОНТИНЕНТАЛЬНОГО ШЕЛЬФА РОССИИ

- А) внутренняя
- Б) внешняя

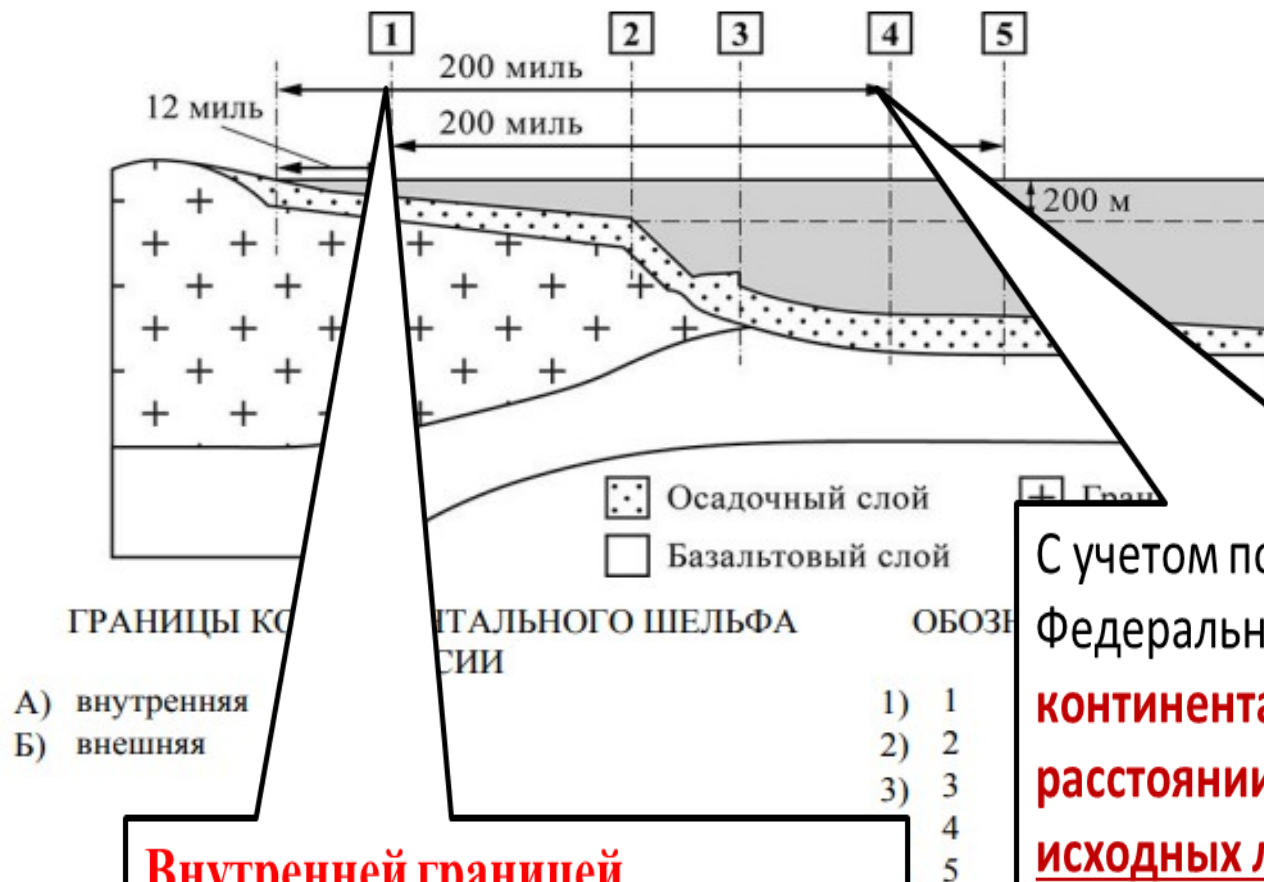
ОБОЗНАЧЕНИЯ НА РИСУНКЕ

1) 1 2) 2 3) 3 4) 4 5) 5
Запишите в таблицу выбранные цифры под соответствующими буквами.

Внутренней границей континентального шельфа является внешняя граница территориального моря.

С учетом положений [статьи 2](#) настоящего Федерального **закона** **внешняя граница континентального шельфа находится на расстоянии 200 морских миль от исходных линий**, от которых отмеряется ширина территориального моря

А	Б
2	5



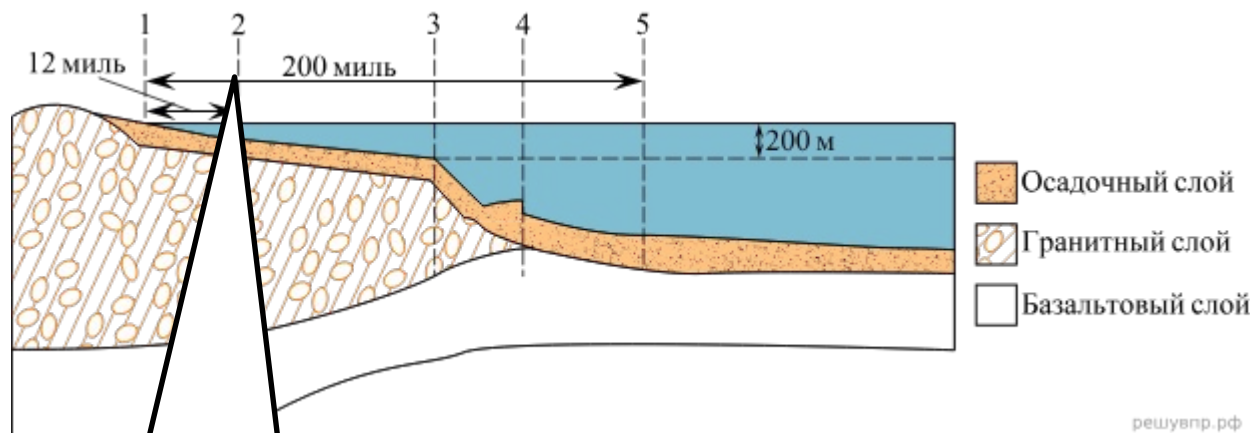
Внутренней границей

континентального шельфа является
внешняя граница территориального
моря.

С учетом положений [статьи 2](#) настоящего
Федерального **закона** **внешняя граница**
континентального шельфа находится на
расстоянии 200 морских миль от
исходных линий, от которых отмеряется
ширина территориального моря

А	Б
1	4

Территориальные воды России являются частью её государственной территории. В пределах своего континентального шельфа Россия имеет суверенные права на разведку и разработку природных ресурсов. Установите соответствие между границей континентального шельфа России, границей территориальных вод России и цифрами, которыми эти границы обозначены на рисунке: к каждому элементу первого столбца подберите соответствующий элемент из второго столбца.



ГРАНИЦЫ

А) внутренняя граница континентального шельфа России

Б) внутренняя граница территориальных вод

ОБОЗНАЧЕНИЯ НА РИСУНКЕ

1) 1 2) 2 3) 3 4) 4 5) 5

Запишите в таблицу выбранные цифры под соответствующими буквами.

Внутренней границей

континентального шельфа является внешняя граница территориального моря.

А	Б
2	1

Исключительная экономическая зона

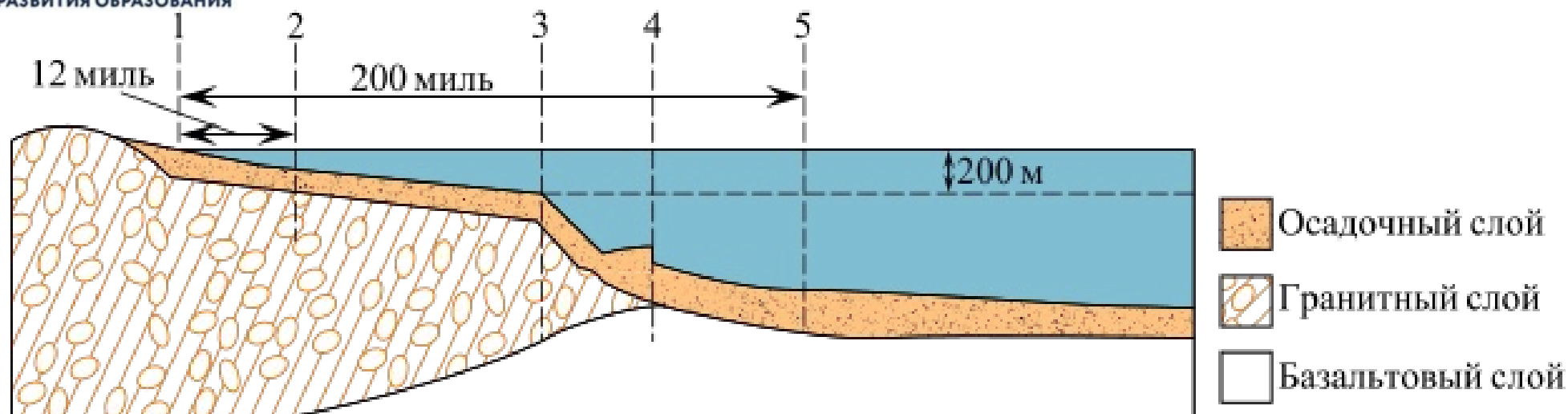
Экономическая зона — это прибрежная морская территория шириной до 200 морских миль от береговой линии, которая **начинается сразу за территориальными водами**. В этой зоне государство не имеет полного суверенитета, как в территориальных водах, но обладает особыми правами на разведку, добычу и использование природных ресурсов, таких как рыба, нефть, газ и др. В экономической зоне запрещается деятельность, которая может навредить экологии, и регулируется хозяйственная деятельность.

Статья 1. **ФЗ от 17.12.1998 N 191-ФЗ (ред. от 28.06.2022) "Об исключительной экономической зоне РФ»**

4. **Внутренней границей** исключительной экономической зоны является **внешняя граница территориального моря**.

3. **Внешняя граница** исключительной экономической зоны находится на расстоянии **200 морских миль от исходных линий**, от которых отмеряется ширина территориального моря, если иное не предусмотрено международными договорами Российской Федерации.

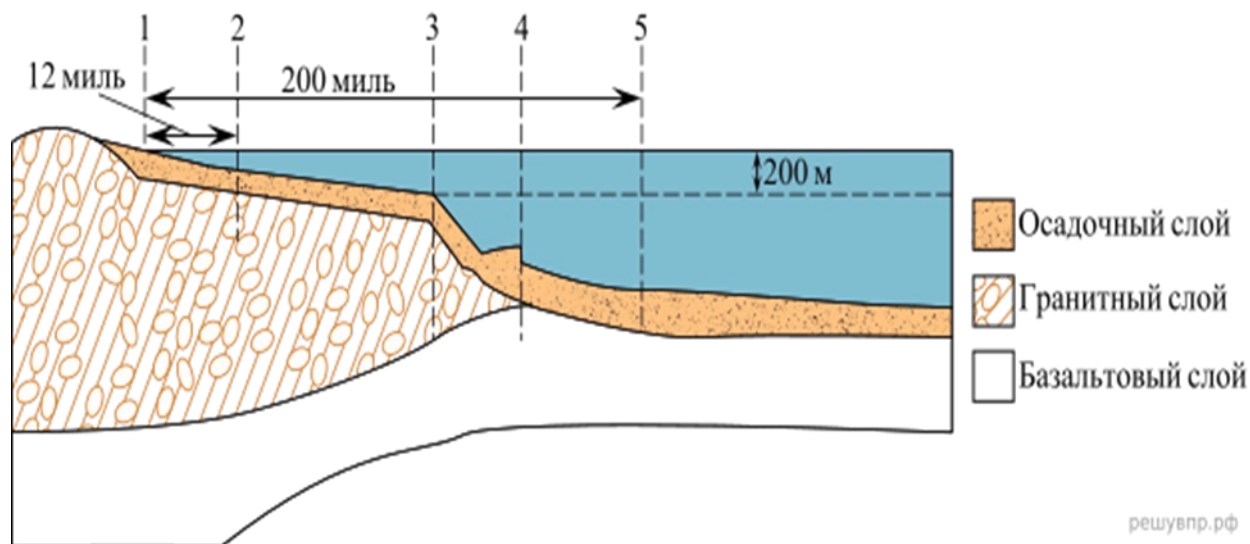
2-5 Границы экономической зоны



Исключительная экономическая зона (ИЭЗ) — это район, находящийся за пределами территориального моря и прилегающий к нему, подпадающий под действие особого правового режима. Это полоса открытого моря шириной в 200 морских миль (365 км).



В пределах своей исключительной экономической зоны Россия имеет суверенные права на разведку и использование водных биоресурсов и неживых ресурсов, морского дна и его недр. Установите соответствие между границами **исключительной экономической зоны России** и цифрами, которыми они обозначены на рисунке: к каждому элементу первого столбца подберите соответствующий элемент из второго столбца.



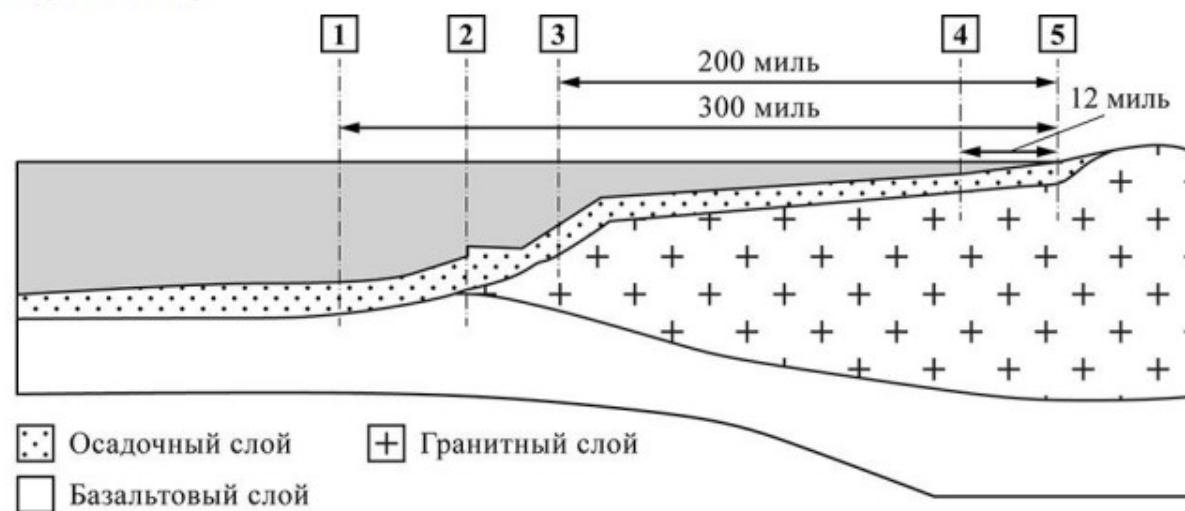
ГРАНИЦЫ ИСКЛЮЧИТЕЛЬНОЙ ЭКОНОМИЧЕСКОЙ
ЗОНЫ РОССИИ ОБОЗНАЧЕНИЯ НА РИСУНКЕ

- А) внутренняя
Б) внешняя

А	Б
2	5

3

Территориальные воды России являются частью её государственной территории. В пределах своей исключительной экономической зоны Россия имеет суверенные права на разведку и использование водных биоресурсов и неживых ресурсов, морского дна и его недр. Установите соответствие между границей территориальных вод России, границей исключительной экономической зоны России и цифрами, которыми эти границы обозначены на рисунке: к каждому элементу первого столбца подберите соответствующий элемент из второго столбца.

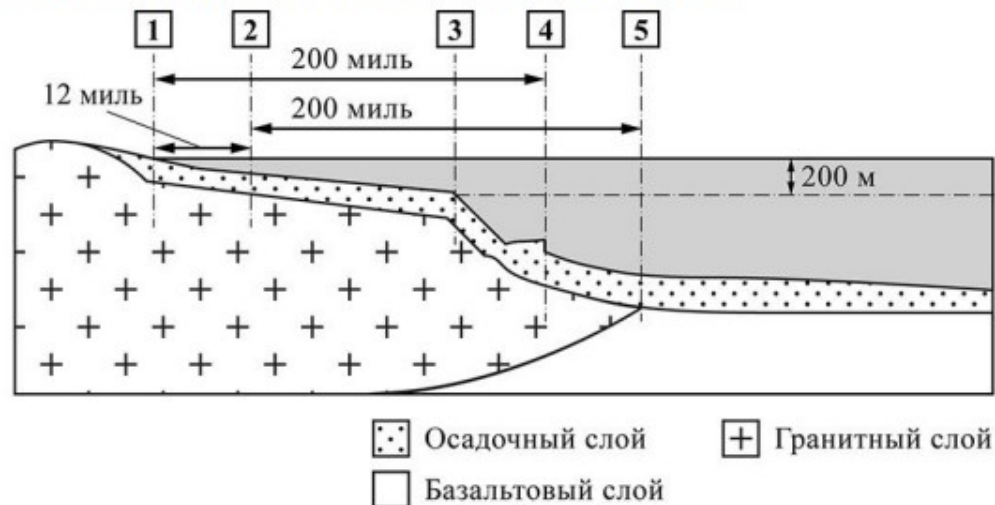


ГРАНИЦЫ	ОБОЗНАЧЕНИЯ НА РИСУНКЕ
А) внутренняя граница территориальных вод	1) 1
Б) внешняя граница исключительной экономической зоны	2) 2
	3) 3
	4) 4
	5) 5

А Б

5 3

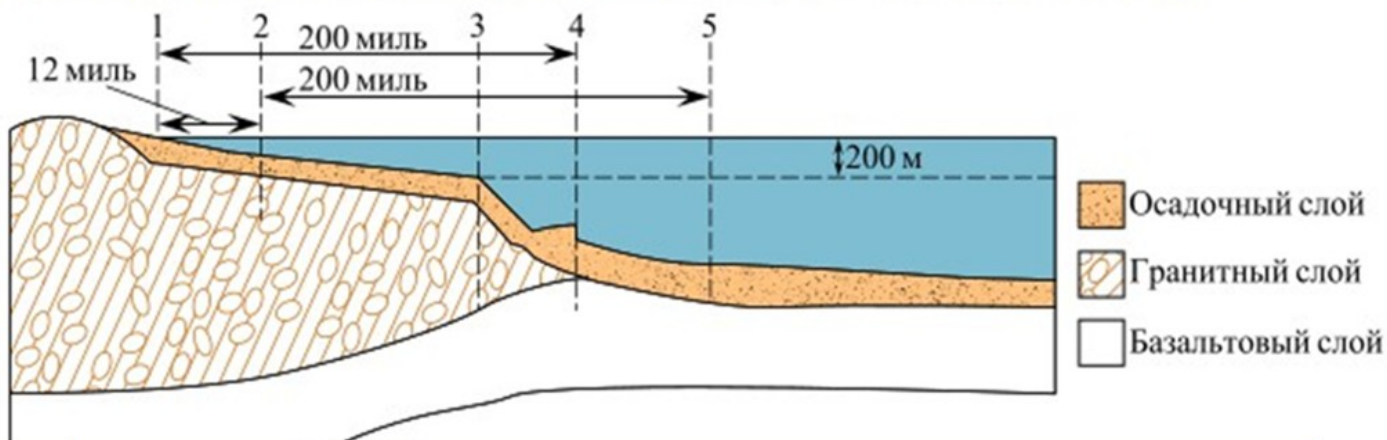
- 3) Россия имеет суверенные права на разведку и разработку природных ресурсов в пределах своего континентального шельфа и своей исключительной экономической зоны. Но границы этих двух пространств не всегда совпадают. Установите соответствие между границей исключительной экономической зоны России, границей континентального шельфа России и цифрами, которыми эти границы обозначены на рисунке: к каждому элементу первого столбца подберите соответствующий элемент из второго столбца.



ГРАНИЦЫ		ОБОЗНАЧЕНИЯ НА РИСУНКЕ	
А) внутренняя граница исключительной экономической зоны		1) 1	
		2) 2	
Б) внешняя граница континентального шельфа		3) 3	
		4) 4	
		5) 5	

Запишите в таблицу выбранные цифры под соответствующими буквами.

А	Б
2	5



1	точка максимального отлива, или исходная линия
1-2	12 мильная зона - территориальные воды государства
1-3	граница континентальной платформы
1-4	край континентальной платформы
1-5	двухсотмильная экономическая зона

Исходная линия — линия, от которой отсчитываются

- [территориальные воды](#),
- [исключительная экономическая зона](#)
- границы [шельфа](#).

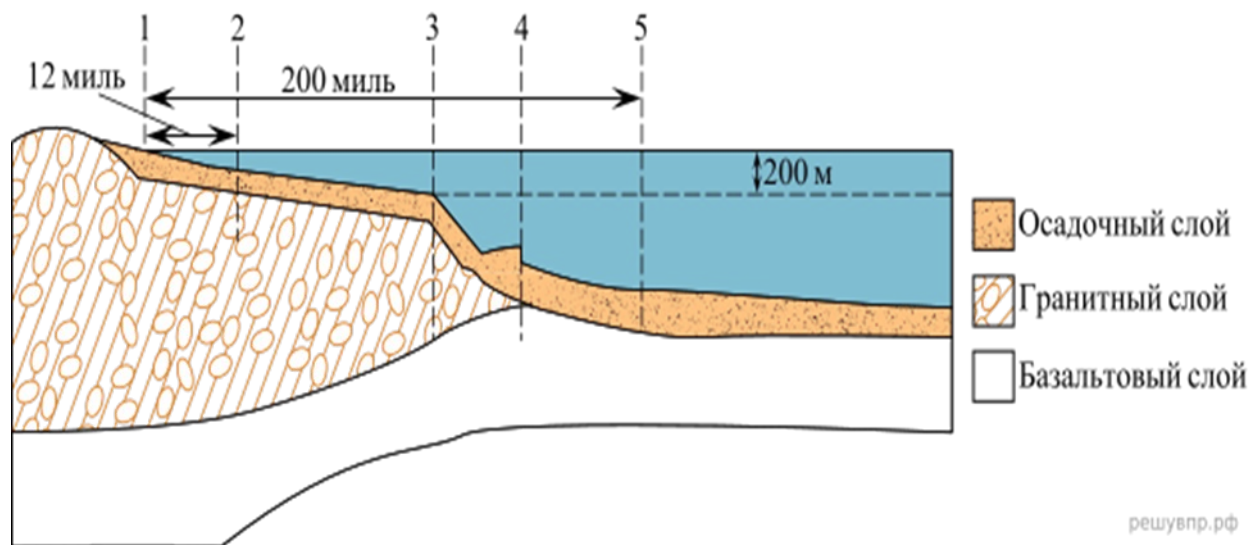
до точки 3 происходит плавное понижение морского дна как правило до глубин 100-200м;

- в точке 3 происходит резкий перегиб морского дна - который указывает на приближение к границе континента;

- осадочный чехол имеет схожее геологическое строение с береговым.

Эти признаки дают возможность определить **шельф** от точки максимального отлива до границы континентальной платформы.

В пределах своей исключительной экономической зоны Россия имеет суверенные права на разведку и использование водных биоресурсов и неживых ресурсов, морского дна и его недр. Установите соответствие между границами исключительной экономической зоны России и цифрами, которыми они обозначены на рисунке: к каждому элементу первого столбца подберите соответствующий элемент из второго столбца.



ГРАНИЦЫ ИСКЛЮЧИТЕЛЬНОЙ ЭКОНОМИЧЕСКОЙ
ЗОНЫ РОССИИ ОБОЗНАЧЕНИЯ НА РИСУНКЕ

- А) внутренняя
- Б) внешняя

А	Б
2	4

Таким образом,

территориальные воды — это ближайшая часть моря, где страна полностью управляет ситуацией,

континентальный шельф — подводная часть материка, где страна может добывать ресурсы,

а **экономическая зона** — шире, где есть права на хозяйственную деятельность и ресурсы

Спасибо за внимание!