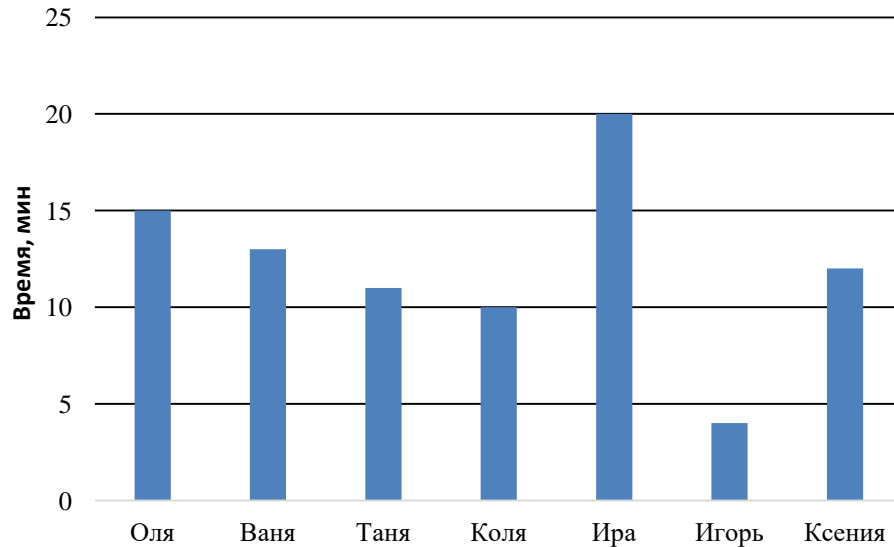


**Итоговый контроль по проверке наличия дефицита
«умение читать столбчатую диаграмму,
использовать информацию для ответа на вопрос»
по математике в 5 классе**

Вариант 1.

Задание 1. На диаграмме показано время, за которое ученики 5 класса добираются от дома до школы.



Пользуясь диаграммой, ответьте на вопросы:

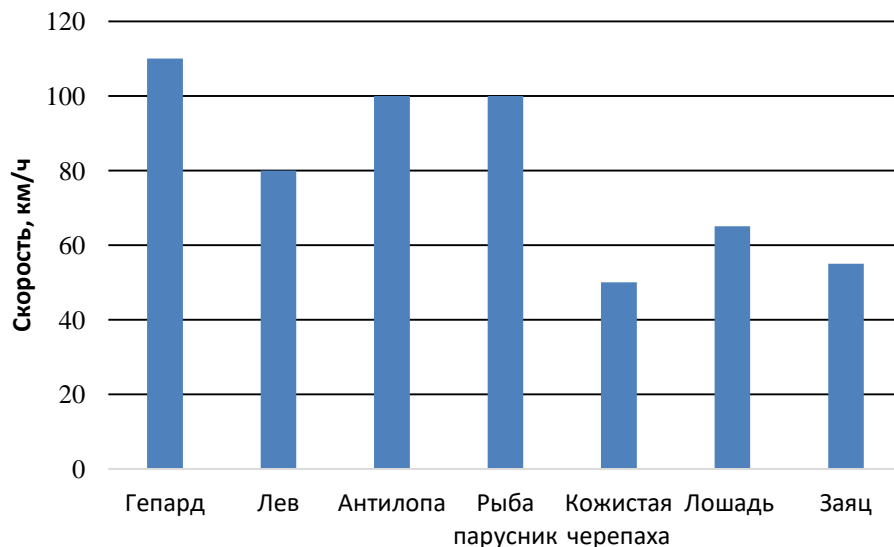
1. Кто из учащихся тратит на дорогу от дома до школы более 13 минут?

Ответ: _____.

2. Один из учеников добирается до школы вдвое дольше другого. Кто эти ученики?

Ответ: _____.

Задание 2. Московский зоопарк славится большим разнообразием представителей животного мира. На диаграмме представлены данные о максимальной скорости передвижения некоторых из этих животных.



Пользуясь диаграммой, ответьте на вопросы:

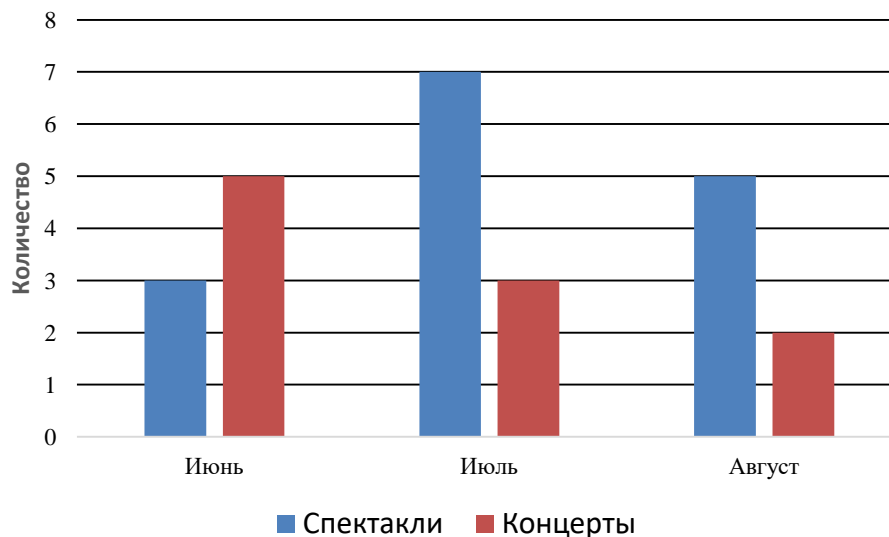
1. Какое из этих животных развивает максимальную скорость от 50км/ч до 60км/ч?

Ответ: _____.

2. На сколько больше максимальная скорость лошади, чем максимальная скорость кожистой черепахи?

Ответ: _____.

Задание 3. На диаграмме показано число мероприятий, проведенных в Доме культуры города М. в летние месяцы.

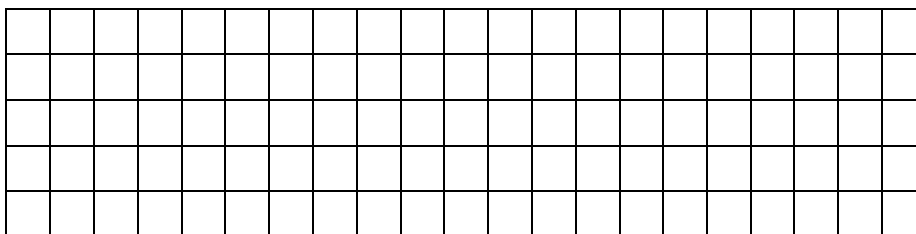


Пользуясь диаграммой, ответьте на вопрос: Сколько процентов от числа всех мероприятий составляют концерты?

Ответ: _____.


Задание 4. Решите задачу.

Периметр квадрата 92см. Найди его площадь.



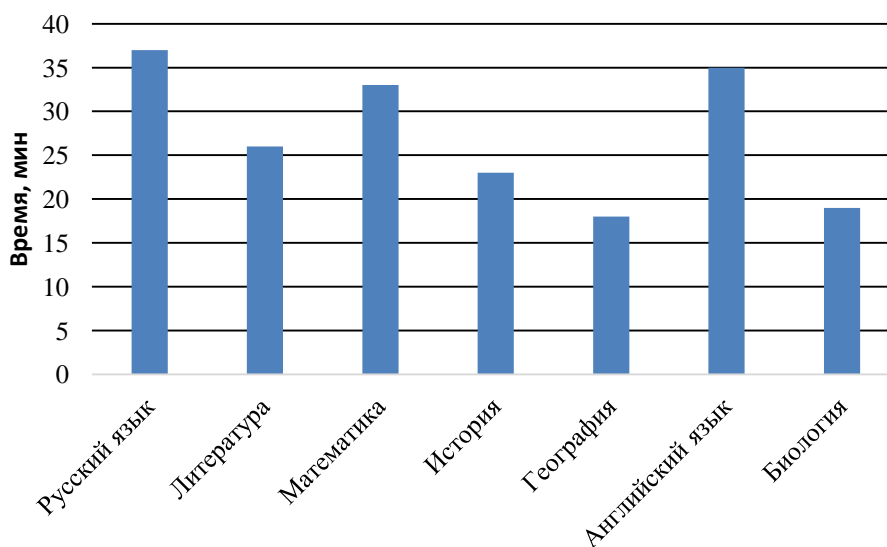
Задание 5. Решите задачу.

Прямоугольный участок огорода обнесли четырьмя рядами проволоки, длина которой 800метров. Найди площадь участка, если его длина 60 метров.



Вариант 2.

Задание 1. На диаграмме представлены данные о среднем времени выполнения домашнего задания по отдельным предметам.



Пользуясь диаграммой, ответьте на вопросы:

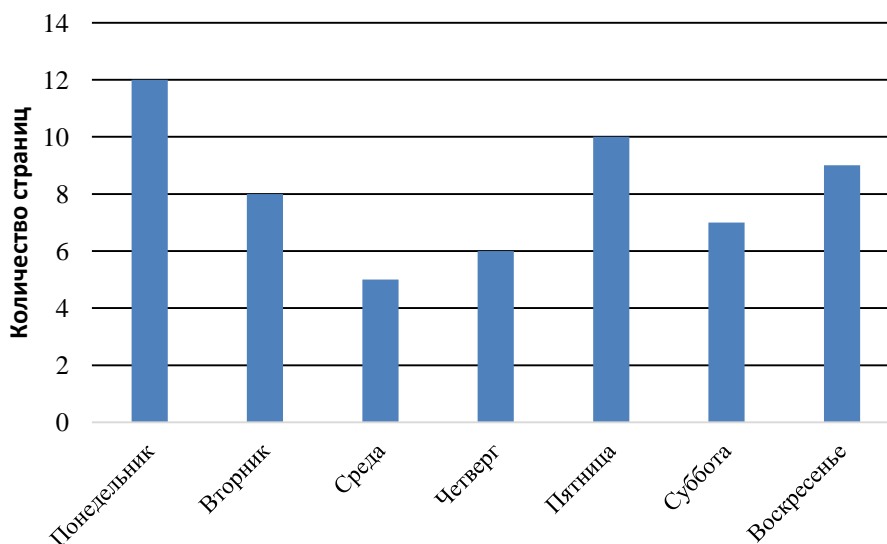
1. На какой из представленных предметов уходит от 20 до 25 минут?

Ответ: _____.

2. На сколько минут больше занимает выполнение задания по литературе, чем задания по географии?

Ответ: _____.

Задание 2. Коля в течение недели читал роман «Дубровский». На диаграмме показано, сколько страниц он читал каждый день.



Пользуясь диаграммой, ответьте на вопросы:

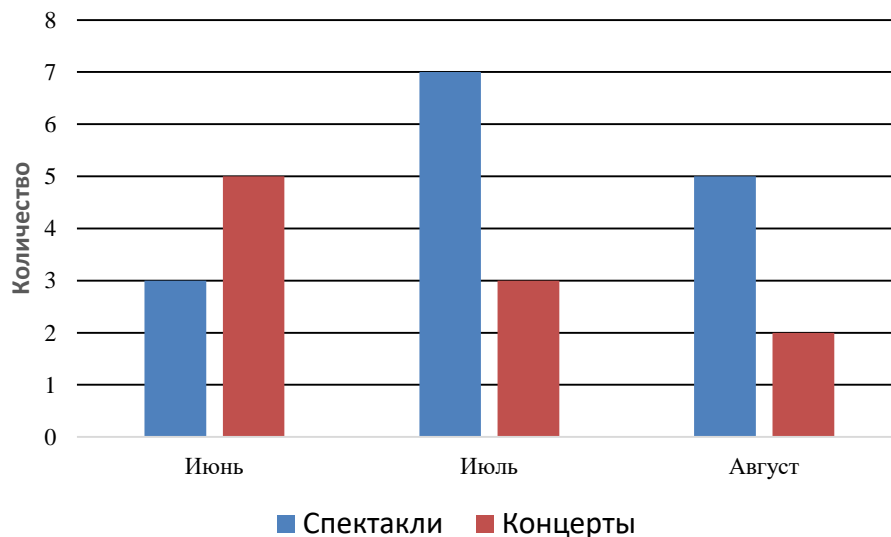
1. Сколько страниц прочитал Коля в среду?

Ответ: _____.

2. На сколько страниц больше Коля прочитал в понедельник, чем в четверг?

Ответ: _____.

Задание 3. На диаграмме показано число мероприятий, проведенных в Доме культуры города М. в летние месяцы.




Пользуясь диаграммой, ответьте на вопрос: Сколько процентов от числа всех мероприятий составляют спектакли?

Ответ: _____.

Задание 4. Решите задачу.

Периметр квадрата 92см. Найди его площадь.



Задание 5. Решите задачу.

Прямоугольный участок огорода обнесли четырьмя рядами проволоки, длина которой 800метров. Найди площадь участка, если его длина 60 метров.

