

Банк заданий для устранения предметных дефицитов, выявленных по результатам ВПР 2025 года по биологии в 5 классе

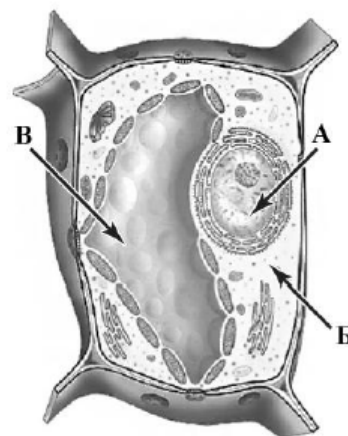
Дефицит: знания о строении органоидов клетки, несформированность умения работать с рисунком и определять ключевые процессы жизнедеятельности организмов.

Умение работать с рисунком и определять ключевые процессы жизнедеятельности организмов.

Правильный ответ на задание 16.1 оценивается 2 баллами. Если в ответе допущена одна ошибка, выставляется 1 балл, две ошибки и более – 0 баллов.

Правильный ответ на задание 16.2 оценивается 1 баллом. Если в ответе допущена ошибка, выставляется 0 баллов.

16.1. Ребята рассмотрели клетку листа с помощью микроскопа. Напишите названия структур, которые обозначены на рисунке буквами А–В.



Ответ:

А) _____

Б) _____

В) _____

16.2. Какую функцию выполняет структура, обозначенная на рисунке клетки буквой Б?

Ответ: _____

16

16.1	А – ядро Б – цитоплазма В – вакуоль с клеточным соком
------	---

16.2

Содержание верного ответа и указания к оцениванию (допускаются иные формулировки ответа, не искажающие его смысла)	Баллы
Правильный ответ должен содержать <u>ответ на вопрос</u> , например: цитоплазма объединяет все органоиды клетки и обеспечивает их взаимодействие	
Дан правильный ответ на вопрос	1
Ответ неправильный	0
<i>Максимальный балл</i>	<i>1</i>

16

16.1. Ребята рассмотрели клетку листа с помощью микроскопа. Напишите названия структур, которые обозначены на рисунке буквами А–В.

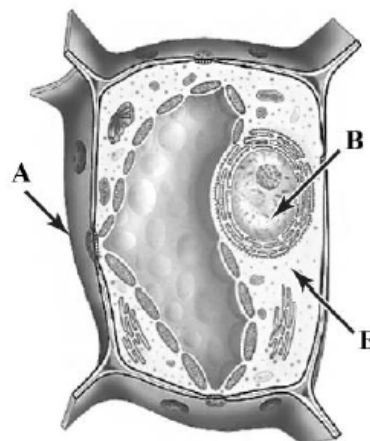


Ответ:

А) _____

Б) _____

В) _____



16.2. Какую функцию выполняет структура, обозначенная на рисунке клетки буквой В?



Ответ: _____

16

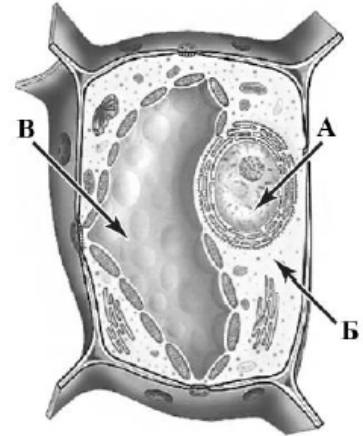
16.1	А – мембрана (оболочка) / клеточная стенка Б – цитоплазма В – ядро
------	--

16.2

Содержание верного ответа и указания к оцениванию (допускаются иные формулировки ответа, не искажающие его смысла)	Баллы
Правильный ответ должен содержать <u>ответ на вопрос</u> , например: ядро осуществляет хранение и передачу генетической информации	
Дан правильный ответ на вопрос	1
Ответ неправильный	0
<i>Максимальный балл</i>	<i>1</i>

16

16.1. Ребята рассмотрели клетку листа с помощью микроскопа. Напишите названия структур, которые обозначены на рисунке буквами А–В.



Ответ:

А) _____

Б) _____

В) _____

16.2. Какую функцию выполняет структура, обозначенная на рисунке клетки буквой Б?

Ответ: _____

16

16.1

А – ядро
 Б – цитоплазма
 В – вакуоль с клеточным соком

16.2

Содержание верного ответа и указания к оцениванию (допускаются иные формулировки ответа, не искажающие его смысла)	Баллы
Правильный ответ должен содержать <u>ответ на вопрос</u> , например: цитоплазма объединяет все органоиды клетки и обеспечивает их взаимодействие	
Дан правильный ответ на вопрос	1
Ответ неправильный	0
<i>Максимальный балл</i>	<i>1</i>

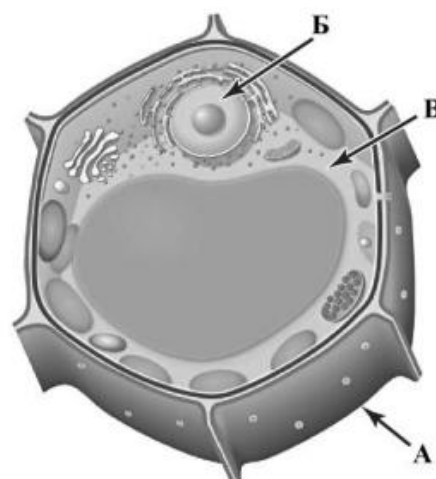
- 16.1. Ребята рассмотрели клетку листа с помощью микроскопа. Напишите названия структур, которые обозначены на рисунке буквами А–В.

Ответ:

А) _____

Б) _____

В) _____



- 16.2. Какую функцию выполняет структура, обозначенная на рисунке клетки буквой Б?

Ответ: _____

16	16.1	А – мембрана (оболочка) / клеточная стенка Б – ядро В – цитоплазма
----	------	--

16.2

Содержание верного ответа и указания к оцениванию (допускаются иные формулировки ответа, не искажающие его смысла)	Баллы
Правильный ответ должен содержать <u>ответ на вопрос</u> , например: ядро осуществляет хранение и передачу генетической информации	
Дан правильный ответ на вопрос	1
Ответ неправильный	0
<i>Максимальный балл</i>	<i>1</i>

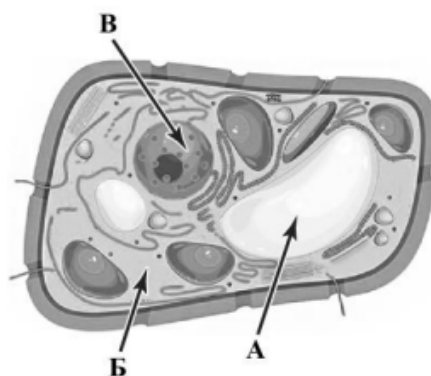
- 16.1. Ребята рассмотрели клетку листа с помощью микроскопа. Напишите названия структур, которые обозначены на рисунке буквами А–В.

Ответ:

А) _____

Б) _____

В) _____



- 16.2. Какую функцию выполняет структура, обозначенная на рисунке клетки буквой В?

Ответ: _____

16

16.1	А – вакуоль с клеточным соком Б – цитоплазма В – ядро
------	---

16.2

Содержание верного ответа и указания к оцениванию (допускаются иные формулировки ответа, не искажающие его смысла)	Баллы
Правильный ответ должен содержать <u>ответ на вопрос</u> , например: ядро осуществляет хранение и передачу генетической информации	
Дан правильный ответ на вопрос	1
Ответ неправильный	0
<i>Максимальный балл</i>	<i>1</i>

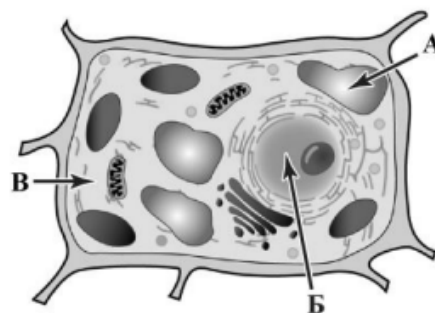
- 16.1. Ребята рассмотрели клетку листа с помощью микроскопа. Напишите названия структур, которые обозначены на рисунке буквами А–В.

Ответ:

А) _____

Б) _____

В) _____



- 16.2. Какую функцию выполняет структура, обозначенная на рисунке клетки буквой А?

Ответ: _____

16

16.1	А – вакуоль с клеточным соком Б – ядро В – цитоплазма
------	---

16.2

Содержание верного ответа и указания к оцениванию (допускаются иные формулировки ответа, не искажающие его смысла)	Баллы
Правильный ответ должен содержать <u>ответ на вопрос</u> , например: вакуоль поддерживает клетку в состоянии упругости ИЛИ накапливает растворённые вещества	
Дан правильный ответ на вопрос	1
Ответ неправильный	0
<i>Максимальный балл</i>	<i>1</i>

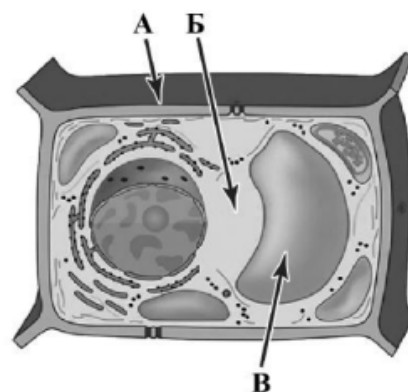
16. Ребята рассмотрели клетку листа с помощью микроскопа. Напишите названия структур, которые обозначены на рисунке буквами А–В.

Ответ:

А) _____

Б) _____

В) _____



16.2. Какую функцию выполняет структура, обозначенная на рисунке клетки буквой Б?

Ответ: _____

16

16.1	А – мембрана (оболочка) / клеточная стенка Б – цитоплазма В – вакуоль с клеточным соком
------	---

16.2

Содержание верного ответа и указания к оцениванию (допускаются иные формулировки ответа, не искажающие его смысла)	Баллы
Правильный ответ должен содержать <u>ответ на вопрос</u> , например: цитоплазма объединяет все органоиды клетки и обеспечивает их взаимодействие	
Дан правильный ответ на вопрос	1
Ответ неправильный	0
<i>Максимальный балл</i>	<i>1</i>